

Т.В. Векшина М.Н. Алимпиева

4 класс

УЧУСЬ ПИСАТЬ КОНТРОЛЬНЫЕ РАБОТЫ ПО МАТЕМАТИКЕ

$2 \times 6 = 12$

$3 \times 6 = 18$

$4 \times 6 = 24$

$2 \times 7 = 14$

$3 \times 7 = 21$

$4 \times 7 = 28$

$2 \times 8 = 16$

$3 \times 8 = 24$

$4 \times 8 = 32$

$2 \times 9 = 18$

$3 \times 9 = 27$

$4 \times 9 = 36$

$2 \times 10 = 20$

$3 \times 10 = 30$

$4 \times 10 = 40$

$5 \times 10 = 50$

$6 \times 2 = 12$

$7 \times 2 = 14$

$8 \times 2 = 16$

$9 \times 2 = 18$

$6 \times 3 = 18$

$7 \times 3 = 21$

$8 \times 3 = 24$

$9 \times 3 = 27$

$6 \times 4 = 24$

$7 \times 4 = 28$

$8 \times 4 = 32$

$9 \times 4 = 36$

$6 \times 5 = 30$

$7 \times 5 = 35$

$8 \times 5 = 40$

$9 \times 5 = 45$

$6 \times 6 = 36$

$7 \times 6 = 42$

$8 \times 6 = 48$

$9 \times 6 = 54$

$6 \times 7 = 42$

$7 \times 7 = 49$

$8 \times 7 = 56$

$9 \times 7 = 63$

$6 \times 8 = 48$

$7 \times 8 = 56$

$8 \times 8 = 64$

$9 \times 8 = 72$

$6 \times 9 = 54$

$7 \times 9 = 63$

$8 \times 9 = 72$

$9 \times 9 = 81$

7

8

+

6



1

9

3

0

2

0+



Подготовка к контрольным работам и диктантам

Татьяна Векшина

**Учусь писать контрольные
работы по математике. 4 класс**

«Автор»

2019


Векшина Т. В.

Учусь писать контрольные работы по математике. 4 класс /
Т. В. Векшина — «Автор», 2019 — (Подготовка к контрольным
работам и диктантам)


Тренажёр для подготовки к контрольным работам по математике. Книга состоит из 4 частей. в первой части содержатся контрольные работы по математике. Для каждой темы составлены 4 варианта работ. Вторая часть книги состоит из самостоятельных работ по математике. Каждая самостоятельная работа состоит из двух вариантов одинаковой сложности. Третья часть книги поможет ребёнку подготовиться к математическим диктантам. В четвёртой части книги содержатся карточки с теоретическими вопросами. Т.о., пособие поможет ребёнку подготовиться к разным видам проверочных работ, которые существуют в школе.

Содержание


Контрольная работа №1. Проверяем готовность к входной контрольной работе.	5
Вариант 1	5
Вариант 2	7
Вариант 3	9
Вариант 4	11
Контрольная работа №2. Проверяем умение складывать и вычитать многозначные числа. Проверяем умение работать с величинами.	13
Вариант 1	13
Вариант 2	15
Вариант 3	17
Вариант 4	19
Контрольная работа №3. Проверяем умение умножать и делить многозначные числа.	21
Вариант 1	21
Вариант 2	23
Вариант 3	25
Вариант 4	27
Контрольная работа №4. Проверяем, чему научились за первое полугодие	29
Вариант 1	29
Вариант 2	31
Конец ознакомительного фрагмента.	32




5. Вычисли периметр и площадь квадрата со стороной 4 см.



5. Вычисли периметр и площадь прямоугольника со сторонами 7 см и 3 см.






5. Сравни. Поставь знаки «>», «<», «=».

57 дм .. 507 см

20 дм ... 15 м

308 мм ... 40 см

813 см ... 7 м




5. Сравни. Поставь знаки «>», «<», «=».

34 дм .. 304 см

400 см ... 5 м

507 мм ... 5 дм

84 см ... 9 дм



4. Выполни преобразования.

$$42 \text{ км } 420 \text{ м} = \dots \text{ м}$$

$$5 \text{ т } 48 \text{ ц} = \dots \text{ Кг}$$

$$240 \text{ мин} = \dots \text{ ч } \dots \text{ мин}$$

$$19 \text{ т } 217 \text{ кг} = \dots \text{ кг}$$

5. Сравни. Поставь знаки «>», «<», «=».

$$4 \text{ мин } 40 \text{ с} \dots 300 \text{ с}$$

$$45895 \text{ кг} \dots 50 \text{ т}$$

$$4 \text{ г } 8 \text{ мес.} \dots 27 \text{ мес.}$$

$$68 \text{ мес.} \dots 15 \text{ лет}$$

4. Выполни преобразования.

$$16 \text{ т } 213 \text{ кг} = \dots \text{ кг}$$

$$450 \text{ мин} = \dots \text{ ч } \dots \text{ мин}$$

$$53 \text{ км } 112 \text{ м} = \dots \text{ м}$$

$$24 \text{ т } 518 \text{ кг} = \dots \text{ кг}$$

5. Сравни. Поставь знаки «>», «<», «=».

$$45895 \text{ кг} \dots 50 \text{ т}$$

$$200 \text{ с} \dots 40 \text{ мин}$$

$$3 \text{ г } 8 \text{ мес.} \dots 21 \text{ мес.}$$


$$73 \text{ мес.} \dots 15 \text{ лет}$$

5. Вычисли.

от числа 28

от числа 72

числа равно 13. Чему равно все число?



Контрольная работа №3. Проверяем умение умножать и делить многозначные числа.

Вариант 1

1. Вычисли.

$$1418 \times 5 =$$


$$72880 : 5 =$$

$$456821 \times 6 =$$

$$45588 : 6 =$$


$$30819 \times 9 =$$

$$89355 : 7 =$$



2. Реши задачу.


В январе в продуктовом магазине продали 760 кг картофеля. В феврале картофеля продали в 5 раз меньше. В марте продали в два раза больше картофеля, чем в феврале. Сколько всего кг картофеля продали за три месяца?



3. Найди значение буквенных выражений.

$$a : 4 + 15380, \text{ при } a = 5832$$

$$30482 - v : 9, \text{ при } v = 41283$$




4. Выполни преобразования.

$$3058 \text{ м} = \dots \text{ км} \dots \text{ м}$$

$$2400 \text{ дм}^2 = \dots \text{ м}^2$$

$$7 \text{ га} = \dots \text{ км}$$


$$583 \text{ см} = \dots \text{ м} \dots \text{ дм} \dots \text{ см}$$



5. Сравни. Поставь знаки «>», «<», «=».

$$2489 \times 7 \dots 5319 \times 3$$

$$7536 : 6 \dots 19516 : 4$$



Вариант 2

1. Вычисли.

$$2498 \times 7 =$$


$$123096 : 8 =$$

$$275274 : 6 =$$

$$50709 \times 4 =$$


$$148561 \times 5 =$$

$$43047 : 9 =$$



2. Реши задачу.


В январе в продуктовом магазине продали 546 кг помидоров. В феврале картофеля продали в 4 раз меньше. В марте картофеля продали столько же, сколько в январе и феврале вместе. Сколько всего кг картофеля продали за три месяца?



3. Найди значение буквенных выражений.

$$43812 - z : 5, \text{ при } z = 6335$$

$$v : 7 + 108417, \text{ при } v = 7845$$



4. Выполни преобразования.

$$5137 \text{ м} = \dots \text{ км} \dots \text{ м}$$

$$4800 \text{ дм}^2 = \dots \text{ м}^2$$


$$700 \text{ км} = \dots \text{ га}$$

$$794 \text{ см} = \dots \text{ м} \dots \text{ дм} \dots \text{ см}$$

5. Сравни. Поставь знаки «>», «<», «=».

$$9436 : 4 \dots 11286 : 9$$


$$4581 \times 7 \dots 2413 \times 9$$



Вариант 3

1. Реши задачу.

Типография выпустила 630 учебников по математике и столько же учебников по русскому языку. Количество учебников по окружающему миру составляет от общего числа учебников по математике и русскому языку. Сколько учебников по окружающему миру выпустила типография?



2. Вычисли.

$$18310 \times 7$$


$$9023 : 7$$

$$132935 : 5$$

$$148403 \times 9$$

$$5896 \times 4$$


$$33882 : 6$$



3. Реши уравнения.

$$a \times 8 = 116300 + 396$$


$$c : 2 = 45000 + 196$$



4. Сравни. Поставь знаки «>», «<», «=».


$$12484 : 8 \dots 182748 : 4$$

$$52816 \times 3 \dots 12543 \times 6$$



5. Реши задачу.


Длина прямоугольника 12 см, а ширина в 4 раза меньше. Вычисли площадь и периметр прямоугольника.



Вариант 4

1. Реши задачу.

Типография выпустила 540 учебников по математике и столько же учебников по русскому языку. Количество учебников по технологии составляет от общего числа учебников по математике и русскому языку. Сколько учебников по технологии выпустила типография?



2. Вычисли.

$$4536 \times 7$$


$$77390 : 5$$

$$109737 : 3$$

$$239814 \times 3$$

$$152804 \times 9$$


$$526336 : 8$$



3. Реши уравнения.

$$z \times 5 - 15000 = 103270$$


$$(8752 \times a) + 35000 = 105016$$



4. Сравни. Поставь знаки «>», «<», «=».


$$32419 \times 7 \dots 47218 \times 9$$

$$375942 : 3 \dots 111240 : 3$$




5. Реши задачу.

Ширина прямоугольника 3 см, а длина в 5 раз больше. Вычисли площадь и периметр прямоугольника.



$$(37580 - x) \times 4 = 12400$$




5. Вычисли.

$$25 \text{ км } 130 \text{ м} + 58 \text{ км } 860 \text{ м} =$$

$$16 \text{ км} - 3 \text{ м } 8 \text{ дм} =$$

$$205 \text{ кг} - 20418 \text{ гр} =$$

$$15 \text{ т } 18 \text{ ц } 8 \text{ кг} - 1587 \text{ г} =$$



Вариант 2

1. Реши задачу.

В спортивных соревнованиях участвовали 450 ребят. часть от всех участников составляли ученики первых классов. Учеников вторых классов было в три раза больше, чем первоклассников. Остальную часть участников составляли учащиеся четвёртых классов. Сколько учеников четвёртых классов принимало участие в соревнованиях?

Конец ознакомительного фрагмента.

Текст предоставлен ООО «Литрес».

Прочитайте эту книгу целиком, [купив полную легальную версию](#) на Литрес.

Безопасно оплатить книгу можно банковской картой Visa, MasterCard, Maestro, со счета мобильного телефона, с платежного терминала, в салоне МТС или Связной, через PayPal, WebMoney, Яндекс.Деньги, QIWI Кошелек, бонусными картами или другим удобным Вам способом.