

  
[www.avtotol.ru](http://www.avtotol.ru)  
РЕКОМЕНДУЕТ

Алексей Громаковский

# ЭКЗАМЕНАЦИОННЫЕ ЗАДАЧИ

для подготовки к экзаменам  
на право управления ТС  
категорий «А» и «В»



**+CD**

 ПИТЕР®

# **Алексей Алексеевич Громаковский**

## **Экзаменационные задачи**

### **для подготовки к экзаменам**

#### **на право управления**

#### **ТС категорий «А» и «В»**

*Текст предоставлен правообладателем*

*[http://www.litres.ru/pages/biblio\\_book/?art=434145](http://www.litres.ru/pages/biblio_book/?art=434145)*

*Экзаменационные задачи для подготовки к экзаменам на право  
управления ТС категорий «А» и «В»: Питер; СПб.; 2010*

*ISBN 978-5-49807-165-7*

### **Аннотация**

Права на вождение автомобиля хотят получить многие. И каждый знает, что для этого придется выдержать экзамен в ГИБДД. Не всем удастся сделать это с первого раза. Но мы поможем вам справиться со всеми трудностями! Экзаменационные задачи для подготовки будущих водителей составлены на основе последней редакции билетов для экзамена в ГИБДД от 1 марта 2009 года. Все ответы на вопросы сопровождаются комментариями специалиста. Книга рекомендована интернет-порталом [www.avtotut.ru](http://www.avtotut.ru)

# Содержание

Предисловие	10
1. Общие положения	12
1.1	12
1.2	13
1.3	14
1.4	15
1.5	16
1.6	17
1.7	18
1.8	19
1.9	20
1.10	21
1.11	22
1.12	23
1.13	24
1.14	25
1.15	26
1.16	27
1.17	28
1.18	29
1.19	30
1.20	31
1.21	32

1.22	33
1.23	34
1.24	35
1.25	36
1. Общие положения. Правильные ответы	37
1.1	37
1.2	38
1.3	39
1.4	40
1.5	41
1.6	42
1.7	43
1.8	44
1.9	45
1.10	46
1.11	47
1.12	48
1.13	49
1.14	50
1.15	51
1.16	52
1.17	53
1.18	54
1.19	55
1.20	56
1.21	57

1.22	58
1.23	59
1.24	60
1.25	61
2. Обязанности водителей и пассажиров	62
2.1	62
2.2	63
2.3	64
2.4	65
2.5	66
2.6	67
2.7	68
2.8	69
2.9	70
2.10	71
2.11	72
2.12	73
2.13	74
2.14	75
2.15	76
2. Обязанности водителей и пассажиров.	77
Правильные ответы	
2.1	77
2.2	78
2.3	79
2.4	80

2.6	81
2.7	82
2.8	83
2.9	84
2.10	85
2.11	86
2.12	87
2.13	88
2.14	89
2.15	90
3. Дорожные знаки	91
Предупреждающие знаки	91
3.1	91
3.2	92
3.3	92
3.4	93
3.5	94
3.6	95
3.7	96
3.8	97
3.9	98
3.10	99
3.11	99
3.12	100
3.13	101
3.14	102

3.15	103
Знаки приоритета	105
3.16	105
3.17	105
3.18	106
3.19	107
3.20	108
3.21	109
Запрещающие знаки	110
3.22	110
3.23	110
3.24	111
3.25	112
3.26	113
3.27	114
3.28	114
3.29	115
3.30	116
3.31	116
3.32	117
3.33	118
3.34	119
3.35	120
3.36	120
3.37	121
3.38	122

3.39	123
3.40	124
3.41	125
3.42	126
3.43	127
3.44	128
3.45	129
3.46	130
3.47	131
3.48	132
3.49	133
Предписывающие знаки	134
3.50	134
3.51	134
3.52	135
3.53	136
3.54	137
3.55	138
3.56	138
3.57	139
3.58	140
3.59	141
3.60	142
3.61	143
3.62	143
3.63	144



Знаки особых предписаний	146
3.64	146
3.65	146
3.66	147
3.67	148
3.68	149
3.69	150
3.70	150
3.71	151
3.72	151
Конец ознакомительного фрагмента.	152

# **Алексей Алексеевич Громаковский Экзаменационные задачи для подготовки к экзаменам на право управления ТС категорий «А» и «В»**

## **Предисловие**

Как свидетельствует статистика, основными виновниками дорожно-транспортных происшествий чаще всего являются неопытные водители, недавно окончившие автошколу. Дело в том, что времени, отведенного на занятия, недостаточно для того, чтобы досконально выучить Правила дорожного движения и разобраться с основными принципами управления автомобилем.

Закрепить знания, полученные при изучении ПДД, и тщательно подготовиться к сдаче квалификационного экзамена

на вам как раз и поможет наша книга. Она содержит экзаменационные задачи для подготовки будущих водителей, которые составлены на основе последней редакции билетов для экзамена в ГИБДД от 1 марта 2009 года. Данные билеты официально используются Государственной инспекцией безопасности дорожного движения Министерства внутренних дел Российской Федерации при приеме теоретических экзаменов на право управления транспортными средствами категорий «А» и «В».

В отличие от билетов, задачи сгруппированы по темам, совпадающим с главами Правил дорожного движения. Такой способ подачи материала очень удобен: завершив изучение определенной главы ПДД, вы сможете обратиться к данной книге и проверить свои знания по соответствующему разделу.

В конце каждой темы приводятся ответы на все вопросы. Они сопровождаются грамотными комментариями специалиста со ссылками на официальные тексты Правил дорожного движения и Кодекса об административных правонарушениях Российской Федерации с самыми последними изменениями.

# 1. Общие положения

## 1.1

*Какие транспортные средства в соответствии с ПДД относятся к маршрутным?*

1. Все автобусы.
2. Автобусы, троллейбусы и трамваи, перевозящие людей по установленному маршруту и с обозначенными местами остановок.
3. Любые транспортные средства, перевозящие пассажиров.

## 1.2

*С грунтовой дороги вы выезжаете:*

1. На главную дорогу.
2. На равнозначную дорогу.



## 1.3

*Проезжая часть данной дороги имеет:*

1. Одну полосу для движения.
2. Две полосы для движения.
3. Три полосы для движения.



# 1.4

*Сколько проезжих частей имеет дорога?*

1. О дну.
2. Две.
3. Четыре.



## 1.5

*Что называется разрешенной максимальной массой транспортного средства?*

1. Максимально допустимая для перевозки масса груза, установленная предприятием-изготовителем.
2. Масса снаряженного транспортного средства без учета массы водителя, пассажиров и груза, установленная предприятием-изготовителем.
3. Масса снаряженного транспортного средства с грузом, водителем и пассажирами, установленная предприятием-изготовителем в качестве максимально допустимой.



## 1.6

*На каких рисунках показана главная дорога?*

1. Только на левом верхнем.
2. На левом верхнем и нижнем.
3. На всех.



## 1.7

*В каком случае вы совершите вынужденную остановку?*

1. Остановившись непосредственно перед пешеходным переходом, чтобы уступить дорогу пешеходу.
2. Остановившись на проезжей части из-за технической неисправности автомобиля.
3. В обоих перечисленных случаях.

## 1.8

*Нарушает ли водитель ПДД, двигаясь посередине дороги?*

1. Не нарушает.

2. Не нарушает, если отсутствуют встречные транспортные средства.

3. Нарушает.



## 1.9

*Являются ли тротуары и обочины частью дороги?*

1. Являются.
2. Являются только обочины.
3. Не являются.

## 1.10

*Что означает термин «обгон»?*

1. Любое опережение движущегося транспортного средства.
2. Опережение одного или нескольких движущихся транспортных средств, связанное с выездом из занимаемой полосы.
3. Опережение одного или нескольких движущихся транспортных средств, связанное с выездом на полосу встречного движения.

# 1.11

*Сколько проезжих частей имеет данная дорога?*


1. Одну.
2. Две.
3. Четыре.



# 1.12

*На каких рисунках показана главная дорога?*

1. Только на правом верхнем.
2. На нижнем и правом верхнем.
3. На всех.



# 1.13

*Сколько перекрестков изображено на рисунке?*

1. Один.
2. Два.
3. Четыре.





# 1.14

*Сколько пересечений проезжих частей имеет этот перекресток?*

1. Одно.
2. Два.



# 1.15

*Сколько полос для движения имеет данная дорога?*

1. Две.
2. Четыре.



# 1.16

*На каком рисунке изображена дорога с разделительной полосой?*

1. Только на правом.
2. На обоих.
3. Ни на одном.



## 1.17

*Выезд из двора или с другой прилегающей территории:*

1. Считается перекрестком равнозначных дорог.
2. Считается перекрестком неравнозначных дорог.
3. Не считается перекрестком.

## 1.18

*Что означает требование уступить дорогу?*

1. Вы должны обязательно остановиться, чтобы пропустить других участников движения.
2. Вы не должны возобновлять или продолжать движение, осуществлять какой-либо маневр, если это может вынудить других участников движения, имеющих по отношению к вам преимущество, изменить направление движения или скорость.
3. Вы должны остановиться только при наличии дорожного знака «Уступите дорогу».

# 1.19

*На каком рисунке изображен перекресток?*

1. Только на левом.
2. Только на правом.
3. На обоих.



# 1.20

*Сколько полос для движения имеет данная дорога?*

1. Две.

2. Четыре.



# 1.21

*На каком рисунке изображен обгон?*

1. Только на левом.
2. Только на правом.
3. На обоих.





## 1.22

*На каких рисунках показана главная дорога?*

1. Только на левом верхнем.
2. Только на правом верхнем.
3. Только на верхних.
4. На всех.



## 1.23

*Что означает термин «недостаточная видимость»?*

1. Видимость дороги менее 100 м вблизи опасных поворотов и переломов продольного профиля дороги.
2. Видимость дороги менее 300 м в условиях тумана, дождя, снегопада и т. п., а также в сумерки.
3. Видимость дороги менее 150 м в ночное время.

## 1.24

*Какая дорога является главной на перекрестке?*

1. Дорога с твердым покрытием по отношению к грунтовой дороге.
2. Дорога с тремя или более полосами движения по отношению к дороге с двумя полосами.
3. Дорога с асфальтобетонным покрытием по отношению к дороге, покрытой брусчаткой.

# 1.25

*Сколько пересечений проезжих частей имеет этот перекресток?*

1. Одно.
2. Два.
3. Четыре.



# **1. Общие положения.**

## **Правильные ответы**

### **1.1**

В соответствии с п. 1.2 ПДД, маршрутное транспортное средство – это транспортное средство общего пользования (автобус, троллейбус, трамвай), предназначенное для перевозки людей и движущееся по установленному маршруту с обозначенными остановочными пунктами. Его главная особенность – наличие определенного маршрута движения. Следовательно, правильный ответ – 2.

## 1.2

В п. 1.2 ПДД сказано, что дорога с асфальтированным покрытием является главной по отношению к грунтовой. Правильный ответ – 1.

## 1.3

Проезжая часть данной дороги имеет по одной полосе для движения в каждом направлении (мотоциклам с учетом их габаритов разрешается двигаться в два ряда по одной полосе). Правильный ответ—2.

## 1.4

В соответствии с п. 1.2 ПДД, данная дорога имеет одну проезжую часть, которая предназначена для движения в разных направлениях. Правильный ответ – 1.



## 1.5

Разрешенная максимальная масса – величина постоянная для данного автомобиля, она не зависит от фактической загрузки транспортного средства (п. 1.2 ПДД). Правильный ответ – 3.

## 1.6

Знак 6.8.2 «Тупик» информирует водителя только о том, что дорога справа не имеет сквозного проезда. Два других знака явно указывают на главную дорогу. Правильный ответ – 2.

## 1.7

Из перечисленных случаев вынужденной остановкой является только остановка из-за технической неисправности автомобиля. Правильный ответ – 2.

## 1.8

В данном случае водитель нарушил ПДД, поскольку на дорогах РФ установлено правостороннее движение транспортных средств (п. 1.4) и водители должны занимать для движения правую сторону дороги. Правильный ответ—3.

## 1.9

В соответствии с п. 1.2 ПДД, тротуары и обочины являются частью дороги. Правильный ответ – 1.

## 1.10

В соответствии с п. 1.2 ПДД, обгоном считается опережение одного или нескольких движущихся транспортных средств, связанное с выездом из занимаемой полосы. Правильный ответ – 2.

## 1.11

В соответствии с п. 1.2 ПДД, данная дорога имеет две проезжие части. Правильный ответ – 2.

## 1.12

Главная дорога обозначена знаками 2.1 «Главная дорога» и 2.3.3 «Примыкание второстепенной дороги». Правильный ответ – 2.



## 1.13

В соответствии с п. 1.2 ПДД, на данном рисунке изображен один перекресток. Правильный ответ – 1.

## 1.14

Данный перекресток имеет два пересечения проезжих частей, так как примыкающая справа дорога с разделительной полосой имеет две проезжие части. Правильный ответ – 2.

## 1.15

В соответствии с п. 1.2 ПДД, данная дорога имеет четыре полосы для движения: каждая проезжая часть разделена прерывистой разметкой на две полосы движения. Правильный ответ – 2.

## 1.16

В соответствии с п. 1.2 ПДД, дорога с разделительной полосой изображена на обоих рисунках. Правильный ответ – 2.

## 1.17

В соответствии с п. 1.2 ПДД, выезды с прилегающих территорий перекрестками не являются. Правильный ответ – 3.

## 1.18

Данное требование означает, что участник дорожного движения не должен начинать, возобновлять или продолжать движение, осуществлять какой-либо маневр, если это может вынудить других участников движения, имеющих по отношению к нему преимущество, изменить направление движения или скорость (п. 1.2 ПДД). Правильный ответ – 2.

## 1.19

В соответствии с п. 1.2 ПДД (определение термина «Перекресток»), перекресток изображен только на левом рисунке. Правильный ответ – 1.

## 1.20

В соответствии с п. 1.2 ПДД, данная дорога имеет четыре полосы движения. Правильный ответ – 2.



## 1.21

В соответствии с п. 1.2 ПДД, обгон изображен только на правом рисунке. Правильный ответ – 2.

## 1.22

В соответствии с п. 1.2 ПДД, дорога, обозначенная знаками 5.1 и 2.3.1–2.3.7, является главной. Правильный ответ – 3.

## 1.23

В соответствии с п. 1.2 ПДД, недостаточная видимость – это видимость дороги менее 300 м в условиях тумана, дождя, снегопада и тому подобного, а также в сумерки. Правильный ответ – 2.

## 1.24

В соответствии с п. 1.2 ПДД, главной является дорога с твердым покрытием по отношению к грунтовой дороге. Правильный ответ – 1.

## 1.25

В соответствии с п. 1.2 ПДД, данный перекресток имеет два пересечения проезжих частей. Правильный ответ – 2.

## **2. Обязанности водителей и пассажиров**

### **2.1**

*При движении вне населенных пунктов на автомобиле, оборудованном ремнями безопасности, пристегиваться должны:*

1. Только водитель.
2. Только водитель и пассажир на переднем сиденье.
3. Все лица, находящиеся в автомобиле.

## 2.2

*Можете ли вы, будучи владельцем мотоцикла, передавать управление этим транспортным средством в своем присутствии другому лицу, имея при этом соответствующий страховой полис?*

1. Можете при наличии у этого лица водительского удостоверения на право управления транспортным средством категории «А».
2. Можете при наличии у этого лица водительского удостоверения на право управления транспортным средством категории «В».
3. Не можете.

## 2.3

*Что обязаны сделать в первую очередь водители, участвующие в дорожно-транспортном происшествии?*

1. Освободить проезжую часть.
2. Остановиться, включить аварийную сигнализацию и выставить знак аварийной остановки.
3. Сообщить о ДТП в милицию.



## 2.4

*Какое удостоверение достаточно иметь водителю, управляющему легковым автомобилем с прицепом, имеющим разрешенную максимальную массу до 750 кг?*

1. На право управления транспортным средством категории «В».
2. На право управления транспортным средством категории «Е».
3. На право управления транспортными средствами категорий «В» и «Е».

## 2.5

*Можете ли вы, будучи владельцем легкового автомобиля, передавать управление этим транспортным средством в своем присутствии другому лицу, имея соответствующий страховой полис?*

1. Можете при наличии у этого лица водительского удостоверения на право управления транспортным средством категории «С».
2. Можете при наличии у этого лица водительского удостоверения на право управления транспортным средством категории «В».
3. Не можете.

## 2.6

*Кому из перечисленных лиц разрешается не пристегиваться ремнями безопасности при движении вне населенного пункта?*

1. Обучающему вождению, когда транспортным средством управляет обучаемый.
2. Водителям-инвалидам.
3. Водителям и пассажирам автомобилей оперативных служб.
4. Всем перечисленным лицам.

## 2.7

*Кому из перечисленных лиц разрешается не пристегиваться ремнями безопасности при движении в населенном пункте?*

1. Во дителям-инвалидам.
2. Пассажирам на задних сиденьях легковых автомобилей.
3. Пассажирам такси.
4. Водителям и пассажирам автомобилей оперативных служб, имеющих специальные цветографические схемы, нанесенные на наружные поверхности машины.
5. Всем перечисленным лицам.

## 2.8

*Разрешается ли водителю легкового автомобиля занять место в движущейся организованной колонне?*

1. Разрешается, если на дороге имеется не более трех полос для движения.
2. Разрешается, если скорость движущихся в колонне транспортных средств не более 30 км/ч.
3. Запрещается.

## 2.9

*Разрешается ли водителю пользоваться мобильным телефоном или радиосвязью во время движения?*

1. Разрешается.
2. Разрешается только при использовании технического устройства, позволяющего вести переговоры без использования рук.
3. Разрешается только при движении со скоростью менее 40 км/ч.
4. Запрещается.

## 2.10

*Могут ли водители, причастные к дорожно-транспортному происшествию, прибыть на ближайший пост ДПС или в орган милиции для оформления происшествия, если нет пострадавших?*

1. Могут.

2. Могут только при взаимном согласии в оценке обстоятельств случившегося и при наличии составленной и подписанной ими схемы дорожно-транспортного происшествия.

3. Не могут.

## 2.11

*Обязаны ли вы предоставлять транспортное средство медицинским и фармацевтическим работникам для перевозки граждан в ближайшее лечебно-профилактическое учреждение в случаях, угрожающих их жизни?*

1. Обязаны только при движении в попутном направлении.
2. Обязаны независимо от направления движения.
3. Не обязаны.



## 2.12

*По требованию каких лиц водитель обязан проходить освидетельствование на состояние алкогольного опьянения и медицинское освидетельствование на состояние опьянения?*

1. Должностных лиц, которым предоставлено право государственного надзора и контроля за безопасностью дорожного движения и эксплуатации транспортного средства.
2. Всех сотрудников милиции.
3. Только регулировщиков.

## 2.13

*Водительское удостоверение на право управления транспортным средством категории «В» разрешает вам управлять:*

1. Только легковым автомобилем.
2. Легковым автомобилем и мотоциклом.
3. Автомобилем, разрешенная максимальная масса которого не превышает 3,5 т и число сидячих мест в котором, не считая места водителя, не более восьми.

## 2.14

*Водители и пассажиры каких транспортных средств при движении должны быть пристегнуты ремнями безопасности?*

1. Только легковых автомобилей.
2. Всех автомобилей.
3. Всех транспортных средств, оборудованных ремнями безопасности.

## 2.15

*По требованию каких лиц вы обязаны передавать для проверки водительское удостоверение, страховой полис обязательного страхования гражданской ответственности, регистрационные документы на транспортное средство и талон о прохождении государственного технического осмотра?*

1. Сотрудника милиции.
2. Сотрудника Военной автомобильной инспекции.
3. Любого регулировщика.
4. Всех перечисленных лиц.

## **2. Обязанности водителей и пассажиров. Правильные ответы**

### **2.1**

В соответствии с п. 2.1.2 ПДД, при движении вне населенного пункта водитель и все пассажиры транспортного средства, оборудованного ремнями безопасности, должны быть пристегнуты. Правильный ответ – 3.

## 2.2

Управление мотоциклом можно передавать лицу, имеющему водительское удостоверение категории «А». Правильный ответ – 1.

## 2.3

В соответствии с п. 2.5 ПДД, водитель, причастный к ДТП, должен немедленно остановить (не трогать с места) транспортное средство, включить аварийную световую сигнализацию и выставить знак аварийной остановки. Правильный ответ – 2.

## 2.4

Наличие категории «Е» необходимо только тогда, когда разрешенная максимальная масса прицепа превышает 750 кг. Правильный ответ – 1.

## 2.5

Управление легковым автомобилем в своем присутствии, имея соответствующий страховой полис, можно передавать лицу, имеющему водительское удостоверение категории «В». Правильный ответ – 2.



## 2.6

В соответствии с п. 2.1.2 ПДД, вне населенного пункта допускается не пристегиваться ремнями безопасности только обучающему вождению, когда транспортным средством управляет обучаемый. Правильный ответ – 1.

## 2.7

Из всех перечисленных категорий в населенном пункте могут не пристегиваться только водители и пассажиры автомобилей оперативных служб, в соответствии с п. 2.1.2 ПДД. Следовательно, правильный ответ – 4.

## 2.8

В соответствии с п. 2.7 ПДД, водителю запрещается пересекать организованные (в том числе и пешие) колонны и занимать место в них. Следовательно, правильный ответ – 3.

## 2.9

В соответствии с п. 2.7 ПДД, водителю запрещается пользоваться во время движения мобильным телефоном или радиосвязью, не оборудованным техническим устройством, позволяющим вести переговоры без использования рук. Правильный ответ – 2.

## 2.10

В соответствии с п. 2.6 ПДД, если в результате дорожно-транспортного происшествия нет пострадавших, водители при взаимном согласии в оценке обстоятельств случившегося могут, предварительно составив схему происшествия и подписав ее, прибыть на ближайший пост ДПС или в орган милиции для оформления происшествия. Правильный ответ – 2.

## 2.11

В соответствии с п. 2.3.3 ПДД, водитель обязан предоставлять автомобиль медицинским и фармацевтическим работникам для перевозки граждан в ближайшее лечебно-профилактическое учреждение в случаях, угрожающих их жизни. Правильный ответ – 2.

## 2.12

Проходить освидетельствование на состояние алкогольного опьянения водитель должен по требованию лиц, указанных в п. 1. Правильный ответ – 1.

## 2.13

Права категории «В» разрешают управлять автомобилем, разрешенная максимальная масса которого не превышает 3,5 т и число сидячих мест в котором, не считая места водителя, не более восьми. Правильный ответ – 3.



## 2.14

В соответствии с пп. 2.1.2 и 5.1 ПДД, пристегиваться должны пассажиры и водители всех транспортных средств, оборудованных ремнями безопасности. Правильный ответ – 3.

## 2.15

В соответствии с п. 2.1.1 ПДД, перечисленные документы водитель обязан передавать для проверки только по требованию сотрудника милиции. Правильный ответ – 1.

## 3. Дорожные знаки

### Предупреждающие знаки

#### 3.1

*Эти знаки предупреждают вас:*

1. О наличии через 500 м опасных поворотов.
2. О том, что на расстоянии 150–300 м за дорожным знаком начнет участок дороги протяженностью 500 м с опасными поворотами.
3. О том, что сразу за знаком начнет участок протяженностью 500 м с опасными поворотами.



## 3.2

*Разрешен ли вам съезд на дорогу с грунтовым покрытием?*

1. Да.
2. Нет.



## 3.3

*Эти знаки предупреждают вас о том, что:*

1. Остановка транспортных средств на обочине запрещена.
2. Съезд на обочину опасен в связи с проведением на ней ремонтных работ.
3. Остановка разрешена только на проезжей части.



### 3.4

*На каком расстоянии до неровного участка дороги устанавливается этот знак вне населенного пункта?*

1. 150–300 м.
2. 50-100 м.
3. Непосредственно перед неровным участком дороги.



### 3.5

*Этот дорожный знак предупреждает вас:*

1. О приближении к скользкому участку дороги.
2. О приближении к мокрому и загрязненному участку дороги.
3. О приближении к участку дороги, где возможен выброс щебня из-под колес.



## 3.6

*Этот знак предупреждает о приближении к перекрестку, на котором вы:*

1. Имеете право преимущественного проезда.
2. Должны уступить дорогу всем транспортным средствам, движущимся по пересекаемой дороге.
3. Должны уступить дорогу только транспортным средствам, приближающимся справа.



## 3.7

*Этот дорожный знак:*

1. Предупреждает о приближении к месту пересечения с трамвайной линией.
2. Предупреждает о приближении к трамвайной остановке.
3. Обязывает вас остановиться непосредственно перед пересечением с трамвайной линией.





## 3.8

*Эти знаки предупреждают вас:*

1. О приближении к железнодорожному переезду с тремя путями.
2. О наличии через 150–300 м железнодорожного переезда без шлагбаума.
3. О наличии через 50-100 м железнодорожного переезда.



### 3.9

*Этот знак:*

1. Показывает направления движения на перекрестке.
2. Указывает, что на пересекаемой дороге движение осуществляется по двум полосам.



### 3.10

*На каком расстоянии до скользкого участка дороги устанавливается этот знак в населенном пункте?*

1. 150–300 м.
2. 50-100 м.
3. Непосредственно перед началом скользкого участка.



### 3.11

*Какие знаки устанавливают непосредственно перед железнодорожным переездом?*

1. Только А.
2. Только Б.
3. Только В.

4. А и В.



**А**



**Б**



**В**

### 3.12

*Эти знаки предупреждают вас о приближении:*

1. К месту производства работ на дороге.
2. К железнодорожному переезду со шлагбаумом.
3. К железнодорожному переезду без шлагбаума.



### 3.13

*Этот знак предупреждает вас о приближении к тоннелю, в котором:*

1. Будет затруднен разъезд со встречными транспортными средствами.
2. Отсутствует искусственное освещение.
3. Очередность движения регулируется светофором.



## 3.14

*Этот дорожный знак предупреждает вас:*

1. О приближении к пешеходному переходу, на котором возможно частое появление велосипедистов.
2. О приближении к пересечению с велосипедной дорожкой.
3. О приближении к месту, где вы должны уступить дорогу велосипедистам.



## 3.15

*Знаки предупреждают вас о том, что:*

1. На протяжении 150 м возможно появление пешеходов на проезжей части.
2. Через 150 м будет нерегулируемый пешеходный переход.





# Знаки приоритета

## 3.16

*Можете ли вы въехать на мост первым?*

1. Да.
2. Нет.



## 3.17

*В каком месте вы должны остановиться?*

1. У знака А.
2. У границы перекрестка Б.
3. У края пересекаемой проезжей части В.



### 3.18

*О чем информируют вас эти дорожные знаки?*

1. О приближении к перекрестку, где установлен знак «Уступите дорогу».
2. О приближении к перекрестку, где установлен знак «Движение без остановки запрещено».
3. О приближении к таможне.



## 3.19

*Этот дорожный знак:*

1. Предупреждает о наличии узкого участка дороги, но не устанавливает очередность движения.
2. Запрещает проезд через мост.
3. Обязывает уступить дорогу встречному транспортному средству.



### 3.20

*Какие знаки предоставляют вам преимущество при проезде нерегулируемых перекрестков?*

1. Только А.
2. А и В.
3. Все.



**А**



**Б**



**В**

## 3.21

*Разрешено ли вам вѣхать на мост одновременно с мотоциклистом, если вы не затрудните ему движение?*

1. Да.
2. Нет.



# Запрещающие знаки

## 3.22

*В каких направлениях вам разрешено продолжить движение на перекрестке?*

1. Только прямо.
2. Прямо или в обратном направлении.
3. Во всех направлениях.



## 3.23

*С какой максимальной скоростью вы можете продолжить движение на грузовом автомобиле с разрешенной мак-*

*симальной массой не более 3,5 т?*

1. 60 км/ч.
2. 70 км/ч.
3. 80 км/ч.



### **3.24**

*Разрешена ли вам стоянка в указанном месте?*

1. Разрешена.
2. Разрешена только в светлое время суток.
3. Запрещена.



### 3.25

*Какие знаки разрешают вам проезд на автомобиле к месту проживания?*

1. Только А.
2. Только В.
3. Только А и В.
4. Все.





**А**



**Б**



**В**

### 3.26

*Разрешено ли вам произвести остановку в указанном месте?*

1. Да.
2. Нет.



### 3.27

*Разрешено ли поставить автомобиль на стоянку в указанном месте?*

1. Разрешено.
2. Разрешено, если вы проживаете рядом с этим местом.
3. Запрещено.



### 3.28

*Разрешена ли вам стоянка в указанном месте?*

1. Да.
2. Нет.



## 3.29

*Этот дорожный знак:*

1. Рекомендует двигаться со скоростью 40 км/ч.
2. Требуется двигаться со скоростью не менее 40 км/ч.
3. Запрещает движение со скоростью более 40 км/ч.



### 3.30

*Какой знак запрещает дальнейшее движение всех без исключения транспортных средств?*

1. А.
2. Б.
3. В.



**А**



**Б**



**В**

### 3.31

*Требования каких знаков вступают в силу непосредственно в том месте, где они установлены?*

1. Только А и Б.
2. Только Б.
3. Всех.



**А**



**Б**



**В**

### 3.32

*Разрешено ли вам поставить автомобиль на стоянку в указанном месте по четным числам месяца?*

1. Разрешено.
2. Разрешено только после 19 ч.
3. Запрещено.



### 3.33

*Разрешается ли вам осуществить посадку (высадку) пассажиров либо загрузку (разгрузку) транспортного средства в зоне действия этого знака?*

1. Да, если это займет не более 5 минут.
2. Да, даже если остановка продлится более 5 минут.
3. Нет.



### 3.34

*В каком направлении можно продолжить буксировку?*

1. Только по траектории А.
2. Только по траектории Б.
3. В обоих.



### 3.35

*Какие требования предъявляют к вам эти дорожные знаки?*

1. Снизить скорость при проезде таможни.
2. Остановиться через 100 м у таможни.
3. Остановиться у знака и дождаться работников таможенной службы.



### 3.36

*Эти знаки обязывают вас соблюдать дистанцию:*

1. Менее 70 м на протяжении 100 м.
2. Более 70 м на протяжении 100 м.
3. От 70 м до 100 м.





### 3.37

*Какой из знаков отменяет все ограничения, введенные ранее запрещающими знаками?*

1. Только А и Б.
2. Только В и Г.
3. Только В.
4. Все.



**А**



**Б**



**В**



**Г**

### 3.38

*В каких случаях вам разрешается использовать звуковой сигнал в зоне действия этого знака?*

1. Только для предупреждения об обгоне.
2. Только для предотвращения дорожно-транспортного происшествия.
3. В обоих перечисленных случаях.



### 3.39

*Каким транспортным средствам разрешена остановка в зоне действия знака?*

1. Только маршрутным транспортным средствам.
2. Только такси с включенным таксометром.
3. Только автомобилям, управляемым инвалидами I и II групп или перевозящим таких инвалидов.



### 3.40

*Разрешено ли вам произвести остановку для посадки пассажира?*

1. Разрешено.
2. Разрешено только по четным числам месяца.
3. Разрешено только по нечетным числам месяца.
4. Не разрешено.



### 3.41

*Разрешен ли вам обгон?*

1. Запрещен.
2. Разрешен, если скорость мотоцикла менее 30 км/ч.
3. Разрешен.



### 3.42

*Разрешено ли вам поставить автомобиль на стоянку в указанном месте по нечетным числам месяца?*

1. Разрешено.
2. Разрешено только после 19 ч.
3. Запрещено.



### 3.43

*Разрешено ли вам при управлении легковым автомобилем с прицепом продолжить движение в прямом направлении?*

1. Разрешено.
2. Разрешено, если вы проживаете в зоне действия знака.
3. Запрещено.



### 3.44

*С какой скоростью вы можете двигаться на грузовом автомобиле с разрешенной максимальной массой не более 3,5 т?*

1. Не более 50 км/ч.
2. Не более 70 км/ч.
3. Не более 90 км/ч.





### 3.45

*Каким транспортным средствам разрешена остановка в зоне действия знака?*

1. Только такси с включенным таксометром.
2. Только автомобилям, на которых установлен опознавательный знак «Инвалид».
3. Всем перечисленным транспортным средствам.



### 3.46

*В каких направлениях вам разрешено продолжить движение на перекрестке?*

1. Только по траектории В.
2. По траектории А или В.
3. Во всех, кроме Г.



### 3.47

*В каком из указанных мест вы можете поставить автомобиль на стоянку?*

1. Только А.
2. Только Б.
3. Ни в каком.



### 3.48

*Действия каких знаков не распространяются на транспортные средства, управляемые инвалидами I и II групп или перевозящие таких инвалидов?*

1. Только А и Б.
2. Только Б и Г.
3. Только Б, В и Г.
4. Всех.



**А**



**Б**



**В**



**Г**

**3.49**

*Разрешено ли вам поставить автомобиль на стоянку за путепроводом?*

1. Да.
2. Нет.



# Предписывающие знаки

**3.50**

*В каких направлениях вам разрешено продолжить движение?*

1. Только по траектории Б.
2. Только по траектории Б или В.
3. В любых.



**3.51**

*В чем особенность скоростного режима на этом участке дороги?*

1. Минимальная допустимая скорость движения на этой

дороге 50 км/ч.

2. Рекомендуемая скорость движения на этой дороге 50 км/ч.

3. Минимальная допустимая скорость движения по левой полосе 50 км/ч.



### 3.52

*Как следует поступить, если вам необходимо развернуться?*

1. Развернуться на этом перекрестке при отсутствии на нем других транспортных средств.

2. Проехать прямо и развернуться за перекрестком.

3. Проехать прямо и развернуться только на следующем перекрестке.

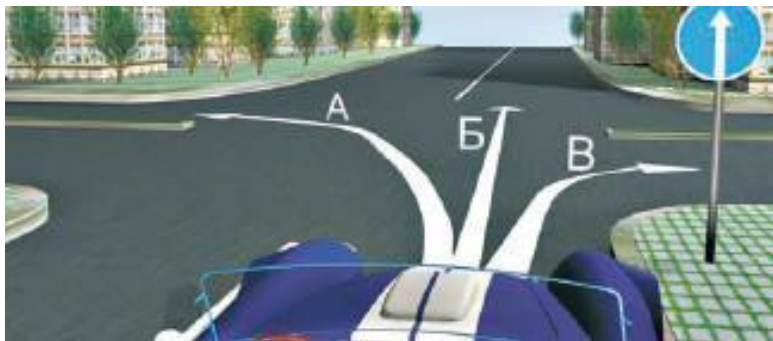


### 3.53

*В каких направлениях вам разрешено продолжить движение на перекрестке?*

1. Только по траектории Б.
2. По траектории Б или В.
3. По траектории А или Б.






### 3.54

*В какой из дворов вы можете въехать в данной ситуации?*

1. Только во двор налево.
2. Только во двор направо.
3. В любой.
4. Повороты во дворы запрещены.



### 3.55

*В каких направлениях вам разрешено продолжить движение на легковом автомобиле?*

1. Только прямо.
2. Только налево или направо.
3. В любых.



### 3.56

*Разрешено ли вам за перекрестком въехать во двор?*

1. Да.
2. Нет.
3. Да, только если вы проживаете в этом доме.



### 3.57

*В каких направлениях вам разрешено продолжить движение на перекрестке?*

1. Только прямо.
2. Прямо или налево.
3. Прямо или в обратном направлении.



### 3.58

*В каких направлениях вам разрешено продолжить движение на грузовом автомобиле с разрешенной максимальной массой 3 т?*

1. Только прямо.
2. Только налево или направо.
3. В любых.



### 3.59

*По какой траектории вы можете продолжить движение?*

1. Только по А.
2. Только по Б.
3. По любой.



**3.60**

*По какой траектории вы можете выполнить разворот?*

1. Только по А.
2. Только по Б.
3. По любой.



### 3.61

*В каком из указанных направлений вы можете продолжить движение на следующем перекрестке?*

1. Только по траектории Б.
2. По траектории А или Б.
3. Во всех.



### 3.62

*Разрешен ли вам разворот в указанном месте?*

1. Разрешен.
2. Не разрешен.



### 3.63

*В каких направлениях вам разрешено продолжить движение?*

1. Только по траектории Б.
2. По траекториям А и Б.
3. По траектории Б или В.





# Знаки особых предписаний

## 3.64

*В каких направлениях вам разрешено продолжить движение на перекрестке?*

1. Только налево и в обратном направлении.
2. Только прямо, налево и в обратном направлении.
3. В любых.



## 3.65

*Этот знак разрешает вам ставить на стоянку легковой автомобиль с использованием тротуара:*

1. Только на правой стороне дороги до ближайшего по хо-

ду движения перекрестка.

2. Только на правой стороне дороги до знака «Конец зоны регулируемой стоянки».

3. На любой стороне дороги, расположенной в зоне регулируемой стоянки.



### 3.66

*Что запрещено в зоне действия этого знака?*

1. Движение со скоростью более 20 км/ч.
2. Движение только механических транспортных средств.
3. Движение любых транспортных средств.



### 3.67

*В каких направлениях вы можете продолжить движение по крайней левой полосе на легковом автомобиле?*

1. Только налево.
2. Только прямо или налево.
3. Прямо, налево или в обратном направлении.



### 3.68

*Какие знаки информируют вас о том, что на данной дороге действуют требования ПДД, устанавливающие порядок движения в населенных пунктах?*

1. Только А.
2. Только А и Б.
3. Все.



**А**



**Б**



**В**

### 3.69

*Какие знаки разрешают выполнить разворот?*

1. Только Б.
2. Только Б и В.
3. Все.



**А**



**Б**



**В**



**Г**

### 3.70

*Где начинают действовать требования ПДД, относящиеся к населенным пунктам?*

1. Только с места установки дорожного знака с названием населенного пункта на белом фоне.
2. С места установки дорожного знака с названием населенного пункта на белом или синем фоне.
3. В начале застроенной территории, непосредственно прилегающей к дороге.

## 3.71

*Двигаясь по средней полосе на легковом автомобиле, вы можете продолжить движение:*

1. Только прямо.
2. Только прямо или налево.
3. Прямо, налево или в обратном направлении.



## 3.72

*Данный знак указывает, что:*

1. Вы должны повернуть направо или налево.

# Конец ознакомительного фрагмента.

Текст предоставлен ООО «ЛитРес».

Прочитайте эту книгу целиком, [купив полную легальную версию](#) на ЛитРес.

Безопасно оплатить книгу можно банковской картой Visa, MasterCard, Maestro, со счета мобильного телефона, с платежного терминала, в салоне МТС или Связной, через PayPal, WebMoney, Яндекс.Деньги, QIWI Кошелек, бонусными картами или другим удобным Вам способом.