

Т.В. Векшина М.Н. Алимбиева

Сборник упражнений по МАТЕМАТИКЕ



2

класс

6+

Сборник упражнений

Татьяна Векшина

**Сборник упражнений
по математике. 2 класс**

«Автор»

2021

Векшина Т. В.

Сборник упражнений по математике. 2 класс / Т. В. Векшина — «Автор», 2021 — (Сборник упражнений)

Классический сборник упражнений по математике. В книге представлены все основные темы по математике за курс 2 класса. Каждая тема состоит из 10 заданий, целью которых является как отработка новых знаний, так и повторение пройденного материала. При этом выполнение заданий не отнимает много времени. Книга будет полезна в качестве дополнительного материала к учебнику, ее можно использовать при подготовке к самостоятельным или контрольным работам. Пособие может использоваться родителями при самостоятельных занятиях с ребёнком, а также будет полезно учителям, репетиторам, гувернерам, няням. Подходит детям, находящимся на заочной или семейной формах обучения.

© Векшина Т. В., 2021

© Автор, 2021

$$47 - 40 =$$

$$56 + 4 =$$


$$56 - 50 =$$

$$94 - 4 =$$

$$25 + 5 =$$

7. Реши задачу.

В первый день в магазин привезли 45 кг овощей. Во второй день привезли на 5 кг овощей меньше, чем в первый. Сколько всего кг овощей привезли в магазин за 2 дня?



8. Вычисли.

$$53 + 20 + 2 =$$

$$25 + 10 + 4 =$$

$$43 + 5 + 2 =$$


$$61 + 24 + 4 =$$

$$23 + 3 + 1 =$$

$$50 + 21 + 2 =$$

9. Реши задачу.

Собака весит 14 кг, а кошка – 4 кг. Сколько всего кг весят собака и 2 котёнка?



10. Вставь пропущенные цифры так, чтобы равенства получились верными.

$$\dots + 4 = 84$$

$$\dots + 5 = 77$$

$$\dots - 9 = 80$$

$$73 - \dots = 3$$

$$42 - \dots = 40$$

Учимся работать с рублём и копейкой

1. Вычисли.

$$3 \text{ руб. } 50 \text{ коп. } + 5 \text{ руб. } 10 \text{ коп. } =$$

$$8 \text{ руб. } 80 \text{ коп. } + 20 \text{ коп. } =$$

$$6 \text{ руб. } 40 \text{ коп. } + 1 \text{ руб. } 60 \text{ коп. } =$$


$$1 \text{ руб. } - 30 \text{ коп. } =$$

$$10 \text{ руб. } 90 \text{ коп. } - 50 \text{ коп. } =$$

$$4 \text{ руб. } 70 \text{ коп.} - 2 \text{ руб. } 60 \text{ коп.} =$$


2. Реши задачу.

Олеся купила альбом за 20 рублей и набор карандашей за 70 рублей. Сколько рублей сдачи получила Олеся со 100 рублей?




3. Реши задачу.

В саду посадили 12 кустов черной смородины, а белой - на 8 кустов больше. Сколько всего кустов смородины посадили в саду?



4. Реши задачу.

Карандаш стоит 10 рублей, а блокнот – на 30 рублей дороже. Сколько всего рублей стоят карандаш и блокнот вместе?



5. Вычисли.

$$65 - 60 =$$

$$35 + 5 =$$

$$46 + 4 =$$

$$76 - 70 =$$

$$91 - 1 =$$

$$63 + 6 =$$

6. Вычисли.

$$3 \text{ руб. } 20 \text{ коп.} + 20 \text{ руб. } 3 \text{ коп.} =$$

$$10 \text{ руб. } 8 \text{ коп.} - 5 \text{ руб. } 2 \text{ коп.} =$$

$$100 \text{ коп.} - 30 \text{ коп.} =$$

$$13 \text{ руб. } 90 \text{ коп.} - 3 \text{ руб. } 70 \text{ коп.} =$$

$$40 \text{ руб.} - 5 \text{ руб. } 50 \text{ коп.} =$$

$$35 \text{ руб. } 50 \text{ коп.} + 5 \text{ руб. } 40 \text{ коп.} =$$

7. Сравни. Поставь знак «>», «<» или «=».

$$79 - 70 \dots 35 - 5$$

$$54 - 4 \dots 87 - 80$$

$$34 + 6 \dots 43 - 3$$

$$96 - 6 \dots 86 + 4$$

8. Исправь ошибки.

$$43 - 3 = 40$$

$$27 - 20 = 6$$


$$53 - 50 = 13$$

$$84 + 4 = 90$$

$$37 + 3 = 40$$

9. Реши задачу.

У Даши было 100 рублей. Она купила пакет молока за 70 рублей и булочку за 20 рублей. Сколько денег осталось у Даши?



10. Сравни. Вставь знаки >, < или =.

$$100 \text{ руб.} \dots 100 \text{ коп.}$$

$$50 \text{ коп.} \dots 5 \text{ руб.}$$

$$14 \text{ руб. } 20 \text{ коп.} \dots 20 \text{ руб. } 90 \text{ коп.}$$

$$54 \text{ руб. } 10 \text{ коп.} \dots 45 \text{ руб. } 10 \text{ коп.}$$

$$1 \text{ руб. } 10 \text{ коп.} \dots 10 \text{ руб. } 10 \text{ коп.}$$

$$75 \text{ руб.} \dots 7 \text{ руб. } 5 \text{ коп.}$$

Учимся работать с единицами времени

1. Вычисли.

$$40 \text{ мин} - 5 \text{ мин} =$$

$$20 \text{ мин} + 30 \text{ мин} =$$


$$5 \text{ ч } 10 \text{ мин} + 9 \text{ ч } 50 \text{ мин} =$$

$$4 \text{ ч } 30 \text{ мин} - 2 \text{ ч } 10 \text{ мин} =$$

$$8 \text{ ч } 50 \text{ мин} - 2 \text{ ч } 10 \text{ мин} =$$

2. Реши задачу.

Саша вышел из дома в 11:00 и поехал в гости к бабушке. Сначала он ехал 20 минут на автобусе, а потом 15 минут шёл пешком. В какое время Саша придет к бабушке?



3. Сравни. Поставь знаки «>», «<», «=».

5 ч ... 2 ч

3 ч ... 60 мин

45 мин ... 1 ч

1 сек. ... 1 мин

60 сек. ... 45 мин

4. Заполни пропуски так, чтобы равенства были верными.

2 ч + = 10 ч

.... ч - 4 ч = 3 ч

.... ч мин + 1 ч 20 мин = 5 ч 30 мин

6 ч 50 мин - ч мин = 1 ч 30 мин

.... ч мин - 3 ч 40 мин = 1 ч 10 мин

3 ч 15 мин + ... ч ... мин = 5 ч 20 мин

5. Реши примеры.

$$15 + 5 =$$

$$30 + 20 =$$

$$9 + 7 =$$

$$75 - 5 =$$

$$100 - 60 =$$

$$20 - 8 =$$

$$55 - 50 =$$

$$80 - 50 =$$

6. Вычисли.

$$17 + 3 =$$

$$37 - 30 =$$

$$9 + 6 =$$

$$14 - 8 =$$

$$23 + 7 =$$

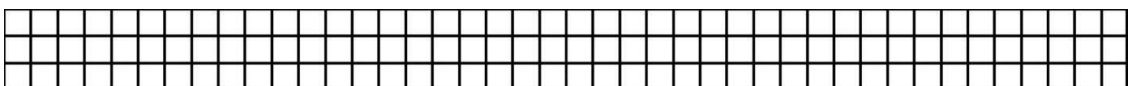
$$100 - 30 =$$

$$45 + 20 =$$

$$67 - 60 =$$

7. Реши задачу.

Аня начала смотреть сказку в 15 часов, а закончила в 17 ч 30 мин. Сколько по времени шла сказка?



$$1 \text{ дм } 3 \text{ см} = \dots \text{ см}$$

$$63 \text{ см} = \dots \text{ дм } \dots \text{ см}$$

$$37 \text{ мм} = \dots \text{ см}$$

$$72 \text{ мм} = \dots \text{ см } \dots \text{ мм}$$

4. Начерти ломаную из трех звеньев, зная, что длина ломаной 12 см

Конец ознакомительного фрагмента.

Текст предоставлен ООО «Литрес».

Прочитайте эту книгу целиком, [купив полную легальную версию](#) на Литрес.

Безопасно оплатить книгу можно банковской картой Visa, MasterCard, Maestro, со счета мобильного телефона, с платежного терминала, в салоне МТС или Связной, через PayPal, WebMoney, Яндекс.Деньги, QIWI Кошелек, бонусными картами или другим удобным Вам способом.