

Т.В. Векишина М.Н. Алимпиева

Учуся решать ЗАДАЧИ

Тренажер

2

класс

6+

Сборники задач

Татьяна Векшина

**Учусь решать задачи.
Тренажёр. 2 класс**

«Автор»

2022

Векшина Т. В.

Учусь решать задачи. Тренажёр. 2 класс / Т. В. Векшина —
«Автор», 2022 — (Сборники задач)

Сборник текстовых задач по математике. В книге представлены задачи на все основные темы за курс 2 класса, включая геометрические задачи. Каждая тема включает в себя от 30 до 50 задач. Данный сборник поможет закрепить новый материал, повторить изученные темы, отработать навык решения задач. Книга будет полезна в качестве дополнительного материала к учебнику, её можно использовать при подготовке к контрольным и самостоятельным работам. Пособие может использоваться родителями при самостоятельных занятиях с ребёнком, а также будет полезно учителям, репетиторам, гувернерам, няням. Подходит детям, находящимся на заочной или семейной формах обучения.

© Векшина Т. В., 2022

© Автор, 2022

Содержание

| | |
|---|----|
| Задачи для повторения изученного в 1 классе | 5 |
| Простые задачи на сложение и вычитание в пределах 100 | 14 |
| Конец ознакомительного фрагмента. | 17 |

[illegible]

7. В корзине было несколько яблок. После того, как в неё положили ещё 6 яблок, их стало 14. Сколько яблок было в корзине?

[illegible]

8. В ведре было 5 л воды. Туда добавили ещё 6 л. Сколько литров воды стало в ведре?

[illegible]

9. Бабушка испекла 7 пирожков с капустой, а с яблоками – на 4 пирожка больше. Сколько всего пирожков испекла бабушка?

[illegible]

10. У Светы 12 тетрадей в клетку, а в линейку – на 7 тетрадей меньше. Сколько всего тетрадей у Светы?

[illegible]

11. На тарелке 4 яблока, 5 груш и 7 слив. Сколько всего фруктов на тарелке?

[illegible]

12. Оле 15 лет, а Вике – 7 лет. На сколько лет Оля старше Вики?

[illegible]

13. В одном ведре 8 л воды, а в другом – на 4 л больше. Сколько всего литров воды в двух вёдрах?

[illegible]

14. В магазине 14 стульев, а диванов – на 9 меньше. Сколько всего стульев и диванов в магазине?

[illegible]


15. У Юли 18 цветных карандашей и 6 простых карандашей. На сколько меньше простых карандашей у Юли?

[illegible]


16. В огороде 7 грядок с картофелем, 2 грядки со свёклой и 5 грядок с морковью. Сколько всего грядок в огороде?

[illegible]


17. Мама испекла 20 пирожков. За обедом съели 10 пирожков, а за ужином – 4. Сколько пирожков осталось? Реши задачу двумя способами.




18. В парке 16 синих скамеек и 9 белых. На сколько больше синих скамеек, чем белых?




19. На тарелке 7 яблок, а слив – на 4 больше. Сколько всего фруктов на тарелке?




20. На столе 6 вилок и 7 ложек. Сколько всего вилок и ложек на столе?



21. В шкафу 12 чашек, а блюдец – на 8 меньше. Сколько всего чашек и блюдец в шкафу?



22. В книге 14 сказок и 5 рассказов. На сколько рассказов меньше, чем сказок в книге?



23. В коробке 10 жёлтых кубиков, а красных – на 5 меньше. Сколько всего кубиков в коробке?

[illegible]

24. Лене 13 лет, а Игорь – на 5 лет младше. Сколько лет Игорю?

[illegible]

25. Котёнок весит 3 кг, а кошка – на 6 кг больше. Сколько весят кошка и котёнок вместе?

[illegible]

26. В саду 4 яблони, 11 вишен и 2 груши. Сколько всего фруктовых деревьев в саду?

[illegible]

27. Кате 8 лет, а Кристина – на 6 лет старше. Сколько лет Кристине?

[illegible]

28. Собака весит 14 кг, а щенок – на 9 кг меньше. Сколько килограммов весят собака и щенок вместе?

[illegible]

29. В наборе 18 деталей конструктора. Из 9 деталей Дима сделал робота. Сколько деталей осталось в наборе?

[illegible]

30. Мама сварила 5 л вишнёвого варенья, а малинового – на 2 л больше. Сколько всего литров варенья сварила мама?

[illegible]

31. В ведре 9 л воды, а в бочке – 20 л. На сколько литров в бочке больше воды, чем в ведре?

[illegible]

32. У Тани 8 наклеек с котятами, 7 наклеек с попугаями и 3 наклейки с цветами. Сколько всего наклеек у Тани?

[illegible]

33. У Ромы было 17 машинок. После того, как он несколько машинок подарил брату, у него осталось 9 машинок. Сколько машинок Рома подарил?

[illegible]

34. Ира нарисовала 7 цветов, а шаров – на 1 меньше. Сколько всего цветов и шаров нарисовала Ира?

[illegible]

35. В магазине было несколько кресел. После того, как купили 7 кресел, их осталось 9. Сколько кресел было в магазине?

[illegible]

36. У Насти 6 фломастеров, а карандашей – на 2 больше. Сколько всего карандашей и фломастеров у Насти?

[illegible]

37. На столе 4 зелёных яблока, а красных – на 7 больше. Сколько всего яблок на столе?

[illegible]

38. У Даши было несколько календариков. После того, как она купила ещё 6 календариков, у неё их стало 11. Сколько календариков было у Даши?

[illegible]

39. В киоске было 17 журналов про животных и 9 журналов про машины. На сколько больше журналов про животных было в киоске?

[illegible]

40. У Ильи было 8 еловых шишек, а сосновых – на 6 больше. Сколько сосновых шишек было у Ильи?

[illegible]

41. Дедушка поймал 15 окуней и 6 лещей. На сколько меньше лещей, чем окуней поймал дедушка?

[illegible]

42. Утром Миша прочитал 7 страниц, а вечером – на 4 страницы больше. Сколько всего страниц прочитал Миша?

[illegible]

43. У Ани было 8 раскрасок, ей подарили ещё 5 раскрасок. Сколько раскрасок стало у Ани?

[illegible]

44. В цирке 12 белых собачек, а серых – на 5 меньше. Сколько всего собачек в цирке?

[illegible]

45. Дима нашёл 5 грибов, Илья – 7 грибов, а Рома – столько, сколько Дима и Илья вместе. Сколько грибов нашёл Рома?

[illegible]

46. В огороде выросло 12 кг огурцов, моркови – на 6 кг меньше, а картофеля – столько, сколько огурцов и моркови вместе. Сколько килограммов картофеля выросло в огороде?

[illegible]

Простые задачи на сложение и вычитание в пределах 100

1. В одном мешке 30 кг картофеля, а в другом – 40 кг. Сколько всего килограммов картофеля в двух мешках?

[illegible]

2. В магазине было 60 кг яблок. За день продали 20 кг. Сколько килограммов яблок осталось в магазине?

[illegible]

3. Настя весит 20 кг, а мама – на 30 кг больше. Сколько килограммов весит мама?

[illegible]

4. В одной упаковке 50 карандашей, а во второй – 70. На сколько карандашей во второй упаковке больше, чем в первой?

[illegible]

5. Бабушке 60 лет, а внучка – на 50 лет моложе. Сколько лет внучке?

[illegible]

6. В бочке 100 л воды, а в ведре – 10 л. На сколько литров воды в ведре меньше, чем в бочке?

[illegible]

7. В бочке было 30 л воды, в неё налили ещё 50 л. Сколько литров воды стало в бочке?

[illegible]

8. В магазине было 70 кг моркови. За день продали 30 кг. Сколько килограммов моркови осталось в магазине?

[illegible]

9. В бочке было 20 л воды. В неё добавили ещё 40 л. Сколько литров воды стало в бочке?

[illegible]

10. В одном мешке 30 яблок, а во втором – на 30 яблок больше. Сколько яблок во втором мешке?

[illegible]

11. Оле 20 лет, мама на 28 лет старше. Сколько лет маме?

[illegible]

12. Дедушке 69 лет, внук на 54 года младше. Сколько лет внуку?

[illegible]

13. В автобусе ехало 52 пассажира. На остановке 11 человек вышло. Сколько пассажиров осталось в автобусе?

[illegible]

16

Конец ознакомительного фрагмента.

Текст предоставлен ООО «Литрес».

Прочитайте эту книгу целиком, [купив полную легальную версию](#) на Литрес.

Безопасно оплатить книгу можно банковской картой Visa, MasterCard, Maestro, со счета мобильного телефона, с платежного терминала, в салоне МТС или Связной, через PayPal, WebMoney, Яндекс.Деньги, QIWI Кошелек, бонусными картами или другим удобным Вам способом.