

Т.В. Векишина М.Н. Алимпиева

Учусть решать **ЗАДАЧИ**

Тренажер

2

класс

6+

**Татьяна Владимировна Векшина
Мария Николаевна Алимпиева
Учусь решать задачи.
Тренажёр. 2 класс
Серия «Сборники задач», книга 2**


*http://www.litres.ru/pages/biblio_book/?art=67126773
SelfPub; 2023*

Аннотация


Сборник текстовых задач по математике. В книге представлены задачи на все основные темы за курс 2 класса, включая геометрические задачи. Каждая тема включает в себя от 30 до 50 задач. Данный сборник поможет закрепить новый материал, повторить изученные темы, отработать навык решения задач. Книга будет полезна в качестве дополнительного материала к учебнику, её можно использовать при подготовке к контрольным и самостоятельным работам. Пособие может использоваться родителями при самостоятельных занятиях с ребёнком, а также будет полезно учителям, репетиторам, гувернерам, няням. Подходит детям, находящимся на заочной или семейной формах обучения.

Содержание


Задачи для повторения изученного в 1 классе	4
Простые задачи на сложение и вычитание в пределах 100	20
Конец ознакомительного фрагмента.	25



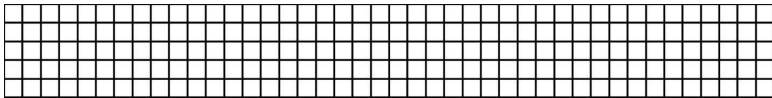
7. В корзине было несколько яблок. После того, как в неё положили ещё 6 яблок, их стало 14. Сколько яблок было в корзине?



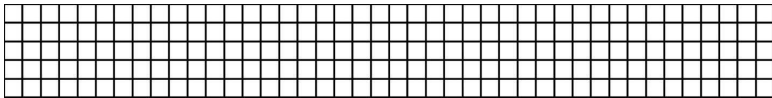
8. В ведре было 5 л воды. Туда добавили ещё 6 л. Сколько литров воды стало в ведре?



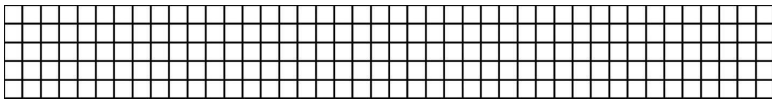
9. Бабушка испекла 7 пирожков с капустой, а с яблоками – на 4 пирожка больше. Сколько всего пирожков испекла бабушка?




10. У Светы 12 тетрадей в клетку, а в линейку – на 7 тетрадей меньше. Сколько всего тетрадей у Светы?



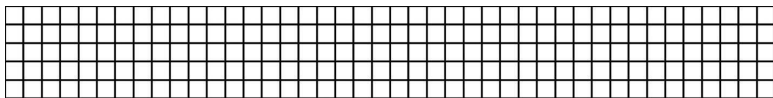
11. На тарелке 4 яблока, 5 груш и 7 слив. Сколько всего фруктов на тарелке?



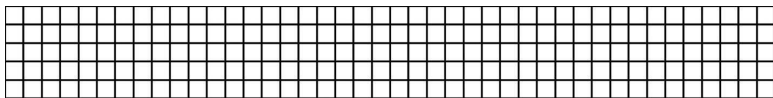
12. Оле 15 лет, а Вике – 7 лет. На сколько лет Оля старше Вики?




13. В одном ведре 8 л воды, а в другом – на 4 л больше. Сколько всего литров воды в двух вёдрах?



14. В магазине 14 стульев, а диванов – на 9 меньше. Сколько всего стульев и диванов в магазине?




15. У Юли 18 цветных карандашей и 6 простых карандашей. На сколько меньше простых карандашей у Юли?




16. В огороде 7 грядок с картофелем, 2 грядки со свёклой

и 5 грядок с морковью. Сколько всего грядок в огороде?




17. Мама испекла 20 пирожков. За обедом съели 10 пирожков, а за ужином – 4. Сколько пирожков осталось? Решите задачу двумя способами.




18. В парке 16 синих скамеек и 9 белых. На сколько больше синих скамеек, чем белых?




19. На тарелке 7 яблок, а слив – на 4 больше. Сколько все-




22. В коробке 10 жёлтых кубиков, а красных – на 5 меньше. Сколько всего кубиков в коробке?




23. Лене 13 лет, а Игорь – на 5 лет младше. Сколько лет Игорю?



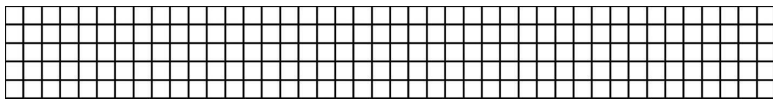
24. Котёнок весит 3 кг, а кошка – на 6 кг больше. Сколько весят кошка и котёнок вместе?




вместе. Сколько килограммов картофеля выросло в огороде?



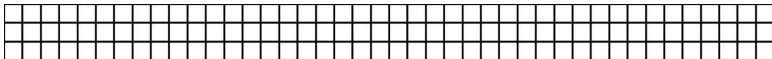
47. Дыня весит 6 кг, тыква – на 2 кг больше, а арбуз столько, сколько тыква и дыня вместе. Сколько килограммов весит арбуз?




48. В посёлке 9 высоких домов и несколько низких. Сколько в посёлке низких домов, если всего в нём 18 домов?




49. У Вики и Лены 20 наклеек. Сколько наклеек у Вики, если у Лены их 11?



50. У Юли 6 кукол, у Иры – 7, а у Кати – 5. Сколько всего кукол у девочек?






8. В магазине было 70 кг моркови. За день продали 30 кг. Сколько килограммов моркови осталось в магазине?



9. В бочке было 20 л воды. В неё добавили ещё 40 л. Сколько литров воды стало в бочке?



10. В одном мешке 30 яблок, а во втором – на 30 яблок больше. Сколько яблок во втором мешке?



11. Оле 20 лет, мама на 28 лет старше. Сколько лет маме?

15. В понедельник Катя прочитала 32 страницы, а во вторник – 25 страниц. Сколько всего страниц прочитала Катя за два дня?

Конец ознакомительного фрагмента.

Текст предоставлен ООО «Литрес».

Прочитайте эту книгу целиком, [купив полную легальную версию](#) на Литрес.

Безопасно оплатить книгу можно банковской картой Visa, MasterCard, Maestro, со счета мобильного телефона, с платежного терминала, в салоне МТС или Связной, через PayPal, WebMoney, Яндекс.Деньги, QIWI Кошелек, бонусными картами или другим удобным Вам способом.